





Je manipule J'utilise des .

- Construis 2  et prends 4 .
- Construis 1  et prends 3 .
- Combien y a-t-il de cubes en tout ?

J'observe

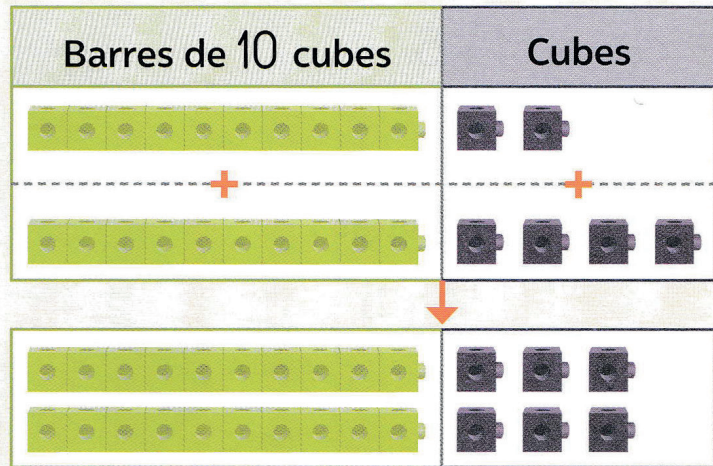
Tom a 12 cubes . Il en prend 14 de plus. Combien en a-t-il en tout ?

 Complète.

| Dizaines | Unités |
|----------|--------|
| 1 | 2 |
| +-----+ | |
| 1 | 4 |

| | |
|---|---|
| 2 | 6 |
|---|---|

Tom a 26 cubes .



J'apprends

À l'aide d'une addition posée, calcule $23 + 16$.

- 1 Additionne d'abord les unités.
 $3 \text{ unités} + 6 \text{ unités} = 9 \text{ unités}$

$$\begin{array}{r} \text{unités} \\ 23 \\ + 16 \\ \hline 9 \end{array}$$

- 2 Additionne ensuite les dizaines.
 $2 \text{ dizaines} + 1 \text{ dizaine} = 3 \text{ dizaines}$

$$\begin{array}{r} \text{dizaines} \quad \text{unités} \\ 23 \\ + 16 \\ \hline 39 \end{array}$$

Résultat :
 $23 + 16 = 39$